

۱ * درستی یا نادرستی گزاره‌های زیر را مشخص کنید.


<input type="checkbox"/> غ	<input type="checkbox"/> ص	الف) در عبارت «ساعت دیواری خانه‌ی ما خراب شده است» نحوه‌ی دلالت لفظ بر معنای «ساعت» از نوع «دلالیت مطابقی» است.
<input type="checkbox"/> غ	<input type="checkbox"/> ص	ب) منطق، علمی کاربردی است که تبخّر در آن به تمرین و ممارست نیاز ندارد.
<input type="checkbox"/> غ	<input type="checkbox"/> ص	ج) هدف از استدلال کردن، کشف تصدیق‌های مجهول با استفاده از تصدیق‌های معلوم برای شنونده است.
<input type="checkbox"/> غ	<input type="checkbox"/> ص	د) دو مفهوم کلی که مصادیق آن‌ها با یکدیگر نسبت «عموم و خصوص من وجه» دارند، هیچ مصادیق مشترک با یکدیگر ندارند.
<input type="checkbox"/> غ	<input type="checkbox"/> ص	ه) در «استدلال قیاسی»، مقدمات ضرورتاً نتیجه‌ای را در پی دارند.
<input type="checkbox"/> غ	<input type="checkbox"/> ص	و) تنها جملات انشایی هستند که قابلیت صدق و کذب دارند.

۲ * جاهای خالی را با کلمات مناسب کامل کنید.

- الف) به جز اسامی خاص و مفاهیمی که با صفات اشاره‌ی «این» و «آن» مشخص شده‌اند، تمامی مفاهیم _____ هستند.
 ب) رابطه‌ی ایجابی و سلبی را _____ قضیه می‌نامند.
 ج) در استدلال _____ مقدمات از نتیجه حمایت نسبی می‌کنند.
 د) عدم رعایت دقیق علائم سجاوندی و حرکات کلمات، باعث پدید آمدن مغالطه‌ی _____ می‌شود.
 ه) قیدی که بر سر قضایای محصوره می‌آید _____ نام دارد که این قید بیانگر _____ قضیه است.

۲ * پاسخ صحیح را از میان گزینه‌های ارائه شده انتخاب کنید.

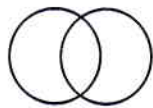
الف) کدام تصویر نسبت میان دو مفهوم «مسیحی» و «آسیایی» را به درستی نشان می‌دهد؟



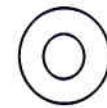
گزینه‌ی ۲)



گزینه‌ی ۱)



گزینه‌ی ۴)



گزینه‌ی ۳)

ب) تعریف تلویزیون به «وسیله‌ی الکترونیک» و تعریف حیوان به «گره»، به ترتیب فاقد کدام شرط تعریف‌اند؟

گزینه‌ی ۱) جامعیت - مانعیت

گزینه‌ی ۲) جامعیت - جامعیت

گزینه‌ی ۳) مانعیت - مانعیت

گزینه‌ی ۴) مانعیت - جامعیت

ج) کدام گزینه قضیه‌ی «_____ سر جایش نیست» را شخصی می‌کند؟

گزینه‌ی ۱) این کتاب

گزینه‌ی ۲) کتاب من

گزینه‌ی ۳) کتاب ریاضی

گزینه‌ی ۴) هیچ کتابی

د) لفظ «دست» در کدام گزینه دارای دلالت التزامی است؟

گزینه‌ی ۱) کتاب را بین خودشان دست به دست می‌کردند.

گزینه‌ی ۲) دست علی در اثر بی‌احتیاطی شکست.

گزینه‌ی ۳) دوتا دست که بیشتر ندارم، چگونه این همه کار کنم؟!

گزینه‌ی ۴) هیچ وقت دست‌نشسته سر میز غذا نرو.

۱/۵	* تصور یا تصدیق بودن هر یک از عبارات زیر را مشخص کنید. (در صورت تصور بودن هر یک از عبارات، دلیل آن را ذکر نمایید)	الف) برو کار می‌کن مگو چیست کار ب) منطق معیار تفکر است ج) توانا بود هر که دانا بود										
۱/۵	* کلی یا جزئی بودن هر یک از مفاهیم زیر را مشخص کنید. (توجه: در قسمت «و»، کلی یا جزئی بودن مفهوم <u>مشهد</u> را مشخص نمایید)	الف) خلیج فارس ب) ماه بهمن ج) مدیر مؤسسه‌ی آموزش عالی د) این در خانه ه) آن صندلی‌ها و) همه جای ایران، <u>مشهد</u> مدافعان کشور است.										
۱/۷۵	* نسبت هر یک از مفاهیم زیر را از میان نسبت‌های چهارگانه تعیین کنید.	الف) میز و سیاه ب) میز و پایه ج) موجود و دیدنی د) ایرانی و اروپایی ه) اسپانیایی و اروپایی ز) مثلث و شکل										
۱	* هر یک از تعاریف زیر جزء کدام یک از اقسام تعریف می‌باشد. (اقسام تعریف: تعریف لغوی، تعریف از طریق مصادیق، تعریف مفهومی)	الف) سوبسید: یارانه ب) نقاش: انسان‌هایی همچون کمال‌الملک و پیکاسو ج) جیوه: فلزی است که در دمای طبیعی مایع است. د) پهباد: مخفف حروف نخستین کلمات عبارت «پرنده‌ی هدایت‌پذیر از دور»										
۰/۵	* هر یک از عبارات مشخص شده‌ی زیر مربوط به کدام یک از حیثه‌های ذهن، زبان یا خارج است؟	الف) کتاب، چهار حرف دارد. ب) دوستم به من کتاب هدیه داد.										
۱/۲۵	* در قضیه محصوره‌ی زیر، «کیفیت»، «کمیت»، «موضوع»، «محمول» و «رابطه» را مشخص نمایید.	«هیچ‌کس به موقع به مهمانی نرسید.» کیفیت: کمیت: موضوع: محمول: رابطه:										
* به سؤالات ۱۰ تا ۱۳ پاسخ کوتاه دهید *												
۰/۵	قضیه‌ی «گر صبر کنی، ز غوره حلوا سازی» قضیه‌ی حملی است یا قضیه‌ی شرطی؟	۱۰										
۰/۵	استدلال زیر از کدام نوع از استدلالات استقرایی است؟	۱۱										
<table border="1" style="width: 100%;"> <tr> <td style="width: 50%;">مقدمه‌ی اول:</td> <td style="width: 50%;">آهن در شرایط مختلف در اثر حرارت منبسط می‌شود.</td> </tr> <tr> <td>مقدمه‌ی دوم:</td> <td>روی در شرایط مختلف در اثر حرارت منبسط می‌شود.</td> </tr> <tr> <td>مقدمه‌ی سوم:</td> <td>مس در شرایط مختلف در اثر حرارت منبسط می‌شود.</td> </tr> <tr> <td>سایر مقدمات:</td> <td>.....</td> </tr> <tr> <td>نتیجه:</td> <td>پس فلزات همواره در اثر حرارت منبسط می‌شوند.</td> </tr> </table>		مقدمه‌ی اول:	آهن در شرایط مختلف در اثر حرارت منبسط می‌شود.	مقدمه‌ی دوم:	روی در شرایط مختلف در اثر حرارت منبسط می‌شود.	مقدمه‌ی سوم:	مس در شرایط مختلف در اثر حرارت منبسط می‌شود.	سایر مقدمات:	نتیجه:	پس فلزات همواره در اثر حرارت منبسط می‌شوند.	
مقدمه‌ی اول:	آهن در شرایط مختلف در اثر حرارت منبسط می‌شود.											
مقدمه‌ی دوم:	روی در شرایط مختلف در اثر حرارت منبسط می‌شود.											
مقدمه‌ی سوم:	مس در شرایط مختلف در اثر حرارت منبسط می‌شود.											
سایر مقدمات:											
نتیجه:	پس فلزات همواره در اثر حرارت منبسط می‌شوند.											
۰/۵	اشتباه گرفتن کلماتی که ظاهری مشترک دارند باعث بروز کدام مغالطه می‌شود؟	۱۲										
۰/۷۵	ایراد تعریف «عطر ماده‌ای خوشبو است» چیست؟ چرا؟	۱۳										

*** سوالات تشریحی ***

۱	چرا استقرای تمثیلی استدلالی ضعیف است و نتایج آن احتمالی است؟	۱۳
۱/۲۵	عبارت «پلنگ به دنبال آهو بود که شکارچی به طرف آن شلیک کرد»، دارای چه مغالطه‌ای است؟ توضیح دهید.	۱۵
۲	«توجه به وجوه اختلاف» را به عنوان یکی از راه‌های مقابله با تمثیل ناروا با ذکر مثال توضیح دهید؟	۱۶
۲	رابطه‌ی تعریف با آنچه تعریف می‌شود، از نظر مصادیق، باید کدام‌یک از نسبت‌های چهارگانه باشد؟ توضیح دهید.	۱۷
۲۰	موفق باشید جمع نمره	

تاریخ تصحیح: ۱۴۰۱ /	تجدید نظر پس از رسیدگی به اعتراضات	تاریخ تصحیح: ۱۴۰۱ /	نمره تصحیح اول
با حروف	با عدد	با حروف	با عدد
نام و نام خانوادگی مصحح - امضاء		نام و نام خانوادگی مصحح - امضاء	